

Beata Katarzyna Jędryka

Karty pracy

do nauczania geografii Polski i wiedzy o Polsce w szkole polonijnej *klasy IV–VIII*





© Copyright by Instytut Polonistyki Stosowanej
Wydział Polonistyki UW

Warszawa 2016

ISBN 978-83-65667-19-9

Autor

BEATA KATARZYNA JĘDRYKA

Projekt okładki

ANDRZEJ ZAWADZKI

Skład i łamanie

ANDRZEJ ZAWADZKI

Vizard Andrzej Zawadzki

vizard@list.pl

Zdjęcia na okładce

© fotolia.pl

Publikacja powstała w ramach projektu *Uczeń i nauczyciel w świecie dwóch języków i dwóch kultur – dydaktyka języka polskiego w szkolnictwie polonijnym w USA (etap I-III)*
Etap II. Nauczanie w klasach IV-VIII
współfinansowanego przez Ministerstwo Edukacji Narodowej

.....
imię i nazwisko

.....
klasa



Zadanie 1.

Czy wiesz, gdzie są Mazury?

Pokoloruj ten region na zielono na mapie.



Zadanie 2.

Czy wiesz...? Przeczytaj pytania i zaznacz właściwą odpowiedź.

1. Mazury leżą w województwie:

- pomorskim
- warmińsko-mazurskim
- podlaskim

2. Stolica Mazur to:

- Mrągowo
- Olsztyn
- Ełk

3. Mazury inaczej nazywamy:

- Krainą Tysiąca Jezior
- Krainą Tysiąca Lasów
- Krainą Tysiąca Wysp

4. Najpopularniejszą rzeką na Mazurach jest:

- Wisła
- Krutynia
- Odra

5. Największe jezioro na Mazurach to:

- Mamry
- Śniardwy
- Nidzkie

Zadanie 3.

Przeczytaj nazwy największych miast na Mazurach. Czy potrafisz odnaleźć je na mapie Polski? Zapisz je w kolejności alfabetycznej.

Mikołajki Olsztyn Pisz
Ełk Mrągowo Giżycko
Ostróda

.....
.....
.....
.....
.....
.....



.....
imię i nazwisko

.....
klasa

Zadanie 1.

Przeczytaj krótki tekst i podkreśl na czerwono wszystkie nazwy zwierząt, które można spotkać w mazurskich lasach.

Fauna Mazurskiego Parku Krajobrazowego należy do najbogatszych w Polsce. Często w lasach można spotykać jelenie, sarny, dziki, zające, wiewiórki, lisy, jenoty, kuny, łasice, tchórze, jeże, krety oraz ryjówki i nietoperze. Na tym terenie mieszkają też łosie, wilki, wydry, gronostaje, borsuki i bobry. Niestety bardzo rzadkie są rysie. W ostatnich latach pojawiła się na Mazurach norka amerykańska.

Zadanie 2.

Napisz nazwy zwierząt w liczbie pojedynczej.

jelenie → *jeleń* lisy → tchórze →
sarny → wiewiórki → łosie →
zające → kuny → rysie →
dziki → łasice → bobry →

Zadanie 3.

Czy potrafisz rozpoznać, jakie to zwierzę?



.....
imię i nazwisko

.....
klasa



Zadanie 1.

Czy wiesz, gdzie jest w Polsce rzeka Biebrza? Dowiedz się, a potem pokoloruj miejsce na mapie, gdzie płynie ta rzeka.



Zadanie 2.

Przeczytaj tekst, a następnie zdecyduj, które zdanie jest prawdziwe (P), a które fałszywe (F).

Nad Biebrzą mieszka wiele gatunków zwierząt. Najbardziej popularnym dużym zwierzęciem tego regionu jest łoś. Można go spotkać czasami na drodze. Kierowcy muszą uważać, kiedy jadą przez las. Dla nich ustawiono specjalne znaki drogowe. Łosie poruszają się niezgrabnie i powoli. Lubią bardzo tereny podmokłe oraz bagna. Łosie to zwierzęta roślinożerne.



Łosie to bardzo małe zwierzęta.

P

F

Nad Biebrzą mieszka dużo zwierząt.

P

F

Dla łośi ustawiono specjalne znaki na drodze.

P

F

Łosie biegają bardzo szybko.

P

F

Łosia można spotkać na terenach, gdzie jest dużo wody.

P

F

Łosie nie jedzą mięsa.

P

F



.....
imię i nazwisko

.....
klasa

Zadanie 1.

Przeczytaj tekst i odpowiedz na pytania.

W Biebrzańskim Parku Narodowym mieszkają bobry. Mają one tu doskonałe warunki do życia. Budują swoje domy z gałęzi, na podmokłych terenach. Dom bobra nazywa się żeremie. Po Biebrzańskim Parku Narodowym najlepiej podróżuje się łodzią lub kajakiem. Można wybrać się też na wędrowkę pieszą, konną lub rowerową.

Dlaczego bobry mieszkają w Biebrzańskim Parku Narodowym?

.....

Gdzie bobry budują swoje domy?

.....

Jak nazywa się dom bobra?

.....

Jak można zwiedzać Biebrzański Park Narodowy?

.....



Zadanie 2.

W Polsce znajdują się 23 parki narodowe. Jeden z nich już znasz – Biebrzański Park Narodowy. Czy potrafisz napisać nazwy jeszcze kilku innych parków?

1..... 5.....

2..... 6.....

3..... 7.....

4..... 8.....

Zadanie 3.

Każdy z parków narodowych ma swój symbol. Jak myślisz, który z symboli obok oznacza Biebrzański Park Narodowy?



.....
imię i nazwisko

.....
klasa



Zadanie 1.

Czy wiesz, gdzie leży Szczecin? Pokoloruj województwo na mapie, w którym jest Szczecin.



Zadanie 2.

Przeczytaj tekst i dokończ zdania.

Szczecin to portowe miasto w zachodniej Polsce. Leży nad rzeką Odrą i Jeziorem Dąbie. Choć od Bałtyku jest oddalony o 65 kilometrów, to łączy się z morzem przez Odrę i Zalew Szczeciński. Dlatego w Szczecinie można spotkać statki, które normalnie pływają po morzu.

Szczecin leży

Morze Bałtyckie jest

W Szczecinie można



Zadanie 3.

Jak nazywają się: jezioro, rzeka, zalew oraz morze, o których jest mowa w zadaniu 2.

.....
.....



.....
imię i nazwisko

.....
klasa

Zadanie 1.

Przeczytaj opis herbu i flagi Szczecina, a następnie zaznacz właściwą flagę. Czy wiesz, do jakich miast należą pozostałe herby? Pod flagami napisz nazwy miast.

Na herbie Szczecina możemy zobaczyć mityczne stworzenie – gryfa. Był to pół-lew i pół-orzeł. Od lwa miał ciało, a od orła miał skrzydła i głowę. Dawno temu gryf był symbolem sprytu, siły i zręczności.



.....

Zadanie 2.

Port Szczecin to jeden z najważniejszych portów morskich w Polsce. Latem odbywają się tu Dni Morza, a wtedy w porcie można zobaczyć piękne żaglowce. Przygotuj zaproszenie na Dni Morza.

Uwaga!!! Nie zapomnij umieścić w nim ważnych informacji: gdzie się odbywają Dni Morza, kiedy i co będzie można zobaczyć w ich trakcie.



.....

.....

.....

.....

.....

.....

.....

.....

.....

.....

.....
imię i nazwisko

.....
klasa



Zadanie 1.

Czy wiesz, gdzie znajdują się najpiękniejsze góry w Polsce – Tatry? Pokoloruj to miejsce na mapie.



Zadanie 2.

Popatrz na fotografię. Czy wiesz, jak nazywa się ta góra i blisko jakiego miasta się znajduje? Dokończ zdanie.

Ta góra nazywa się

.....

i znajduje się blisko

.....



Zadanie 3.

Zakopane do zimowa stolica Polski. Przyjeżdżają tu nie tylko turyści z Polski, ale także z całego świata. Zaznacz, co można robić w Zakopanem.

- | | | |
|---|---|---------------------------------------|
| <input type="checkbox"/> jeździć na nartach | <input type="checkbox"/> pływać żaglowcem | <input type="checkbox"/> jeść oscypki |
| <input type="checkbox"/> pływać kajakiem | <input type="checkbox"/> wjechać na Gubałówkę | <input type="checkbox"/> spacerować |
| <input type="checkbox"/> iść nad Morsie Oko | <input type="checkbox"/> zwiedzać Wawel | <input type="checkbox"/> iść na molo |
| <input type="checkbox"/> spacerować po Krupówkach | <input type="checkbox"/> wjechać na Kasprowy Wierch kolejką | |


.....
imię i nazwisko

.....
klasa



Zadanie 1.

Adam i Marta spędzili wakacje w Zakopanem. Kupili bardzo dużo prezentów dla całej rodziny. Czy wiesz, co przywieźli ze sobą do Ameryki?



Zadanie 2.

Marta wysłała do cioci kartkę pocztową. Przeczytaj ją i uporządkuj chronologicznie miejsca, które odwiedziły dzieci.

	Morskie Oko
	Krupówki
	Gubałówka
	Kasprowy Wierch

Kochana Ciociu!

Już tydzień jesteśmy w Zakopanem. Najpierw pojechaliśmy kolejką na Gubałówkę. W czwartek byliśmy nad Morskim Okiem i spacerowaliśmy po górach. W weekend tata zabrał nas na Kasprowy Wierch. Jeździliśmy tam na nartach. W poniedziałek nie mieliśmy siły i poszliśmy tylko na Krupówki.

Pozdrawiam
Marta





.....
imię i nazwisko

.....
klasa

Zadanie 1.

Czy wiesz, gdzie leży Łódź? Pokoloruj to miejsce na mapie.



Zadanie 2.

Uzupełnij tekst wyrazami z ramki.

przemysłowym zabytkowych
najbogatszych centralnej

Łódź znajduje się w

..... Polsce i jest miastem

.....
Ponad 150 lat temu stało się jednym

z najważniejszych i

.....
miast europejskich.


W

ale odnowionych, fabrykach powstają
centra handlowe, drogie hotele oraz
luksusowe mieszkania.



Zadanie 3.

*Czy wiesz, jak wygląda herb Łodzi?
Namaluj go.*





.....
imię i nazwisko

.....
klasa

Zadanie 1.

Między Łodzią a Warszawą znajdują się Skierniewice, nazywane polską stolicą nauk ogrodniczych. Jak myślisz, co to są nauki ogrodnicze?



.....
.....
.....
.....
*Pałac prymasowski w Skierniewicach.
Obecnie siedziba Instytutu Ogrodnictwa.*

Zadanie 2.

Skierniewice związane są z historyczną Koleją Warszawsko-Wiedeńską. W mieście znajduje się stary dworzec kolejowy, który pamięta czasy XIX-wiecznych parowozów. Dowiedz się, czym była Kolej Warszawsko-Wiedeńska i jak długo ją budowano.



Zadanie 3.

Poszukaj więcej informacji w Internecie o Skierniewicach. Czy wiesz, co jest na tej fotografii?



.....
imię i nazwisko

.....
klasa



Zadanie 1.

Białowiecki Park Narodowy został utworzony jako jeden z pierwszych parków w Europie. To jedyne i ostateczne miejsce w Europie, gdzie lasy wyglądają tak samo, jak przed wiekami. W puszczy mieszka wiele gatunków zwierząt. Popatrz na fotografie i podpisz mieszkańców parków.



Wikipedia



Wikipedia

Zadanie 2.

Przeczytaj tekst i zdecyduj, które zdanie jest prawdziwe (P) a które fałszywe (F).

Puszcza Białowiecka to miejsce, w którym mieszka żubr, największe europejskie zwierzę. Większość żubrów wyginęła w XVIII wieku. Żeby żubry powróciły do Białowieży, zaczęto je sprowadzać z ogrodów zoologicznych. W puszczy obecnie żyje ponad 500 żubrów. Na świecie jest obecnie około 5 tysięcy osobników, które żyją w hodowlach zamkniętych lub na wolności, ale najwięcej jest ich w Puszczy Białowieckiej.



Żubr jest największym zwierzęciem w Europie.

P F

Żubry zawsze mieszkały w Puszczy Białowieckiej.

P F

W XVIII wieku żubry mieszkały w ogrodach zoologicznych.

P F

Żubry żyją tylko w hodowlach zamkniętych.

P F

Puszcza Białowiecka ma najwięcej żubrów.

P F

.....
imię i nazwisko

.....
klasa



Zadanie 1.

Czy wiesz, gdzie jest Białystok? Pokoloruj miejsce na mapie, gdzie leży to miasto.



Pałac Branickich w Białymstoku



Zadanie 2.

Nazwa Białystok zbudowana jest z dwóch słów: biały oraz stok. W języku staropolskim „biały” oznaczał „czysty”, a „stok” – „strumień”. Przez Białystok przepływa rzeka, która nazywa się Białka, czyli „czysta rzeka”. Czy znasz jakieś inne polskie miasta, których nazwy składają się z dwóch słów?

.....

.....

Zadanie 3.

W Białymstoku mieszkańcy są dwóch wyznań. Popatrz na fotografie i zaznacz właściwą odpowiedź.



- Tu modlą się katolicy.
To jest kościół.
- Tu modlą się prawosławni.
To jest cerkiew.



- Tu modlą się katolicy.
To jest kościół.
- Tu modlą się prawosławni.
To jest cerkiew.

imię i nazwisko

klasa



Zadanie 1.

Suwałki są najzimniejszym miastem w Polsce, chociaż nie leżą w górach. Niedaleko Suwałk, w okolicach miejscowości Wizajny, znajduje się „polski biegun zimna”. Czy wiesz, gdzie leżą Suwałki? Pokoloruj miejsce na mapie, gdzie leży to miasto.



Konkatedra św. Aleksandra

Zadanie 2.

Uzupełnij tekst wyrazami z tabeli.

niedaleko	wodną	plaża
agroturystycznych		czas

Mieszkańcy Suwałk lubią spędzać wolny nad Zalewem Arkadia, nad którym rozciąga się duża miejska. Suwałki to idealne miejsce na wakacje, ponieważ jest położony Wigierski Park Narodowy i Suwalski Park Krajobrazowy. W tych okolicach można uprawiać turystykę , rowerową i pieszą. W letnie weekendy można zatrzymać w jednym z gospodarstw

Zadanie 3.

Dokończ zdania.

W gospodarstwie agroturystycznym można

Na plaży można

W parku krajobrazowym można



Zadanie 1.

Czy wiesz, co oznaczają te słowa? Jeżeli nie, zapytaj nauczyciela.

kanał

śluza

wysokość wody

przekop

Zadanie 2.

Przeczytaj tekst, a następnie zaznacz prawidłową odpowiedź.

Kanał Augustowski został zbudowany w latach 1824–1839 i ma długość 102 km. Łączy on dorzecza Wisły i Niemna. Na terenie Polski odcinek kanału ma 80 km, a pozostała część na Białorusi. Ta droga wodna przebiega rzekami, przekopami pomiędzy nimi oraz jeziorami. Aby pokonać 55-metrową różnicę wysokości, wybudowano 18 śluz, z których 14 znajduje się w granicach Polski. Przy budowie kanału pracowało około 7 tys. robotników. Jedną śluzę budowano dwa lata. Na niektórych śluzach zachowały się zabytkowe tablice z datą i nazwiskiem kierownika budowy.



1. Kanał Augustowski budowano:

- pięćdziesiąt lat piętnaście lat

2. Dłuższa część drogi wodnej leży:

- w Polsce na Białorusi

3. Różnica wody w Kanale Augustowskim wynosi:

- ponad pięćdziesiąt metrów ponad piętnaście metrów

4. Na wszystkich śluzach można zobaczyć zabytkowe tablice:

- tak nie

Śluza na Kanale Augustowskim



.....
imię i nazwisko

.....
klasa

Zadanie 1.

Na turystycznej mapie Polski możesz znaleźć Trójmiasto, czyli aglomerację, która składa się z trzech miast. Czy wiesz, jakie to miasta?

1..... 2..... 3.....

Zadanie 2.

Popatrz na fotografie. Czy wiesz, co one przedstawiają? Dokończ zdanie.



Na fotografiach widać w

Zadanie 3.

Przeczytaj tekst i odpowiedz na pytania.

Molo jest najatrakcyjniejszym miejscem w Sopocie. Jego początki sięgają pierwszej połowy XIX wieku, ale obecny jego wygląd pochodzi z roku 1927. Sopotkie molo jest drewnianym pomostem spacerowym, który ma długość 512 metrów. Turyści bardzo lubią molo, ponieważ jest to idealne miejsce do opalania. Najbardziej wysunięty kraniec mola to znakomity punkt widokowy na Trójmiasto i Zatokę Gdańską. Po obydwu stronach mola rozciąga się piaszczysta plaża.

1. Co to jest molo?
2. Jak długą historię ma sopockie molo?
3. Ile metrów ma molo w Sopocie?
4. Co można zobaczyć spacerując po molo?
5. Dlaczego turyści lubią molo?

.....
imię i nazwisko

.....
klasa



Zadanie 1.

Przeczytaj tekst o Gdyni. Czy znasz inne polskie miasta leżące nad Morzem Bałtyckim?




Port w Gdyni

Pierwsze informacje o Gdyni pochodzą z 1253 roku, ale miasto zaczęło rozwijać się dopiero po I wojnie światowej. Władze Polski zdecydowały wtedy, że trzeba rozbudować gdyński port. W 1926 roku Gdynia otrzymała prawa miejskie, a dziesięć lat później była największym portem na Bałtyku.

Zadanie 2.

W Gdyni na końcu mola urządzono jedno z najciekawszych muzeów na Wybrzeżu – oceanarium. Można zobaczyć tam ogromne żółwie, piranie, mureny, ryby tropikalne, koralowce i inne morskie stworzenia. Namaluj akwarium w gdyńskim oceanarium.



Zadanie 3.

W centrum turystycznym Gdyni – skwerze Kościuszki można zobaczyć przycumowany legendarny żaglowiec „Dar Pomorza” i okręt wojenny „Błyskawica”. Popatrz na fotografie. Jak myślisz, która z nich przedstawia żaglowiec, a która niszczyciel?



Wikipedia



Wikipedia

To jest

To jest

.....
imię i nazwisko

.....
klasa



Zadanie 1.

Czy wiesz, gdzie są Kielce? Pokoloruj miejsce na mapie, gdzie leży to miasto.



Pałac Biskupów w Kielcach



Zadanie 2.

Przeczytaj, krótką informację o Kielcach, a następnie zapytaj kolegów z klasy, kto ma rodzinę w tym mieście.

Na początku swojej historii Kielce były miejscem targowym, które zostało miastem w 1360 roku. To właśnie w Kielcach założono Szkołę Akademiczno-Górnictwą, pierwszą wyższą uczelnię techniczną w Polsce. Rozwój Kielc nastąpił przede wszystkim po II wojnie światowej. Dziś Kielce są ośrodkiem kulturalnym i naukowym, miastem młodym i pełnym życia. W Kielcach warto zobaczyć Pałac Biskupów Krakowskich, Kadzielnię oraz Katedrę Wniebowzięcia NMP.

Zadanie 3.

Niedaleko Kielc znajdują się Chęciny. Nad nimi góruje zamek, którego kształt przypomina łódź. Bywał tu Władysław Łokietek, Kazimierz Wielki i królowa Bona. Popatrz na fotografię i opisz zamek chęciński.



.....
imię i nazwisko



.....
klasa



Zadanie 1.

Kielce są otoczone Górami Świętokrzyskimi, które są jednymi z najstarszych gór w Polsce. Najwyższym szczytem Gór Świętokrzyskich jest Łysica (612 m n. p. m.). Symbolem tego regionu jest czarownica. Dowiedz się, dlaczego? Jakie znasz inne miejsca związane z czarownicami?

.....
.....
.....
.....

Zadanie 2.

Nazwa Gór Świętokrzyskich pochodzi od relikwii Krzyża Świętego, które są przechowywane w klasztorze na Łysej Górze. Ania i Paweł odwiedzili to miejsce w wakacje. O swojej wycieczce napisali w pamiętniku, ale ktoś pomieszał ich wpis. Uporządkuj wpis.



Święty Krzyż – klasztor

-¹..... Przedwczoraj byliśmy na Świętym Krzyżu razem z całą klasą.
- Na koniec przewodnik zabrał nas do Bałtowa do Parku Jurajskiego.
- Potem poszliśmy do muzeum przyrodniczego przy klasztorze.
- Wieczorem bardzo zmęczeni wróciliśmy autokarem do naszego hotelu.
- Najpierw zwiedzaliśmy razem z przewodnikiem stare opactwo.
- Popołudniu pojechaliśmy do Świętej Katarzyny zobaczyć źródło i kapliczkę św. Franciszka.

.....
imię i nazwisko

.....
klasa



Zadanie 1.

Czy wiesz, gdzie jest Częstochowa? Pokoloruj miejsce na mapie, gdzie leży to miasto. Jaka rzeka przepływa przez Częstochowę?



Klasztor na Jasnej Górze



Przez Częstochowę przepływa rzeka, która ma 808 km długości.

Zadanie 2.

Częstochowa żyje w rytmie pielgrzymek. Co roku odwiedza ją około 4 milionów pątników (pielgrzymów), którzy idą na Jasną Górę do klasztoru, żeby zobaczyć obraz Czarnej Madonny. Czy znasz inne miejsca na świecie, dokąd podążają pielgrzymi?



.....
.....

Zadanie 3.

Przez Częstochowę przebiega ważny szlak turystyczny: Szlak Orlich Gniazd. Poszukaj informacji o nim i uzupełnij tabelę.

województwa	
miasto początkowe	
miasto końcowe	
długość szlaku	
pochodzenie nazwy	


.....
imię i nazwisko

.....
klasa



Zadanie 1.

Czy wiesz, gdzie są Katowice? Pokoloruj miejsce na mapie, gdzie leży to miasto. Podpowiadamy, że Katowice do stolicy województwa śląskiego.




Hala sportowo-widowiskowa Spodek w Katowicach

Zadanie 2.

Przeczytaj tekst i dokończ zdania.

Katowice są 10. największym miastem w Polsce pod względem ludności oraz jednym z największych ośrodków gospodarczych. Na terenie miasta działają obecnie trzy kopalnie węgla kamiennego oraz dwie huty. Do Katowic można dojechać samochodem i pociągiem. Blisko Katowic znajduje się międzynarodowy port lotniczy Katowice Pyrzowice. W Katowicach mieszkali kiedyś głównie górnicy, dlatego w architekturze miasta często spotyka się ich domy zwane „familokami”.



Zabudowa górnicza na Śląsku

Katowice są dużym miastem, ponieważ

.....
W Katowicach znajdują się

.....
Do Katowic można

.....
Domy górników nazywają się



imię i nazwisko

klasa

Zadanie 1.

Sandomierz leży na wysokiej skarpie wiślanej, w miejscu, gdzie Góry Świętokrzyskie spotykają się z Kotliną Sandomierską. Pokoloruj miejsce na mapie, gdzie leży to miasto. Mapa z karty nr 1_IV.



Ratusz w Sandomierzu

Zadanie 2.

Uzupełnij tekst wyrazami z ramki.

wodna centrum położony malownicze Wisły

Sandomierz jest na wysokim lewym brzegu Wisły, gdzie dawnej była przeprawa Prawa część miasta, która znajduje się za rzeką, pełni rolę gospodarczego. Na lewym brzegu, wokół starówki, rozbudowało się centrum handlowo-mieszkaniowe. Poszczególne części Sandomierza są rozdzielone przez wąwozy.



Wawóz w okolicach Sandomierza

Zadanie 3.

Kiedy będziesz w Sandomierzu, warto odwiedzić podziemną trasę turystyczną, która biegnie podziemiami kamieniczek. Jest to labirynt powstały z połączenia dawnych piwnic i magazynów kupieckich. Czy wiesz, że Sandomierzem jest związana legenda o bohaterskiej Halinie Krępiance? Poszukaj w Internecie tej legendy i napisz jej plan w punktach.

.....
.....
.....
.....
.....



.....
imię i nazwisko

.....
klasa

Zadanie 1.

*Czy wiesz, gdzie leży Radom na mapie Polski?
Pokoloruj miejsce na mapie, gdzie leży to miasto.*



Ratusz w Radomiu



Zadanie 2.

Co dwa lata w Radomiu na lotnisku Sadków odbywają się pokazy lotnicze Radom Air Show. Można na nich podziwiać przeloty i akrobacje samolotów oraz wystawę sprzętu lotniczego. Jak myślisz, jakie maszyny powietrzne można zobaczyć na takich pokazach? Napisz o nich kilka słów.

.....
.....
.....
.....
.....
.....

Zadanie 3

Z okolicami Radomia związana jest postać polskiego poety Jana Kochanowskiego. Czy pamiętasz tytuły kilku utworów tego renesansowego artysty?

.....
.....
.....
.....
.....
.....
.....



Pomnik Jana Kochanowskiego w Radomiu



imię i nazwisko

klasa

Zadanie 1

Pojezierze Iławskie to przede wszystkim krzyżacki pas umocnień. Wśród nich znajduje się Grudziądz leżący na prawym brzegu Wisły. Pokoloruj miejsce na mapie, gdzie leży to miasto.



Poczta w Grudziądzu

Zadanie 2.

Największą atrakcją Grudziądza jest rząd 26 spichlerzy, zasłaniający widok na Wisłę. Budowle te imponują wysokością – od strony miasta mają po dwie kondygnacje, a od strony rzeki po pięć, sześć lub nawet siedem. Czy wiesz, co to jest spichlerz? Czy znasz inne polskie miasta, w których można spotkać spichlerze?

.....

.....

.....

.....

.....



Spichlerze w Grudziądzu

Zadanie 3.

W Grudziądzu znajdują się ruiny zamku krzyżackiego, które robią wrażenie na zwiedzających. Z budowli pozostał kawał muru o wymiarach 2 m na 3 m na 5 m i drugi nieco mniejszy, z łukowym przejściem. Jak myślisz, jak mógł wyglądać ten zamek? Narysuj go!



.....
imię i nazwisko

.....
klasa

Zadanie 1.

Przeczytaj tekst i odpowiedz na pytania.

Włocławek to miasto starych kościołów, które są jedynymi świadkami wielowiekowej historii tej miejscowości. Miasto należało do najstarszych osad w Polsce. Przebiegały tędy drogi do Gniezna i nad Morze Bałtyckie. Wraz z rozwojem miasta rozwijał się przemysł, który zdominował architekturę Włocławka. W 1970 roku zbudowano w okolicach miasta zaporę na Wiśle, dzięki której mieszkańcy mogą odpoczywać nad ogromnym zalewem.

1. Jak myślisz, dlaczego tylko stare kościoły we Włocławku są jedynymi świadkami przeszłości?
2. Dlaczego w przeszłości miasto było ważnym węzłem komunikacyjnym?
3. Jaki typ zabudowań dominuje we Włocławku?
4. Co miasto zyskało dzięki zaporze na Wiśle?

Włocławek nocą



Zadanie 2.

We Włocławku znajduje się gotycka katedra, którą zbudowano w XIV wieku, a później dostawiano renesansowe kaplice. Na ścianie kaplicy południowej można zobaczyć mapę biegu Wisły i zegar słoneczny, podobne ich autorem jest sam Mikołaj Kopernik. Co wiesz o tym polskim uczonym? Z jakimi innymi polskimi miastami jest on związany.

.....
.....
.....
.....
.....
.....
.....



.....
imię i nazwisko

.....
klasa

Zadanie 1.

Czy wiesz, co to jest latarnia morska?


.....
.....
.....

Zadanie 2.

Nad polskim morzem można spotkać wiele latarni morskich. Najwyższa w Polsce jest latarnia w Świnoujściu. Jest ona jedną z najwyższych na świecie. Popatrz na fotografie. Jak myślisz, w jakich miejscach nad Bałtykiem możesz spotkać te latarnie?



.....
.....
.....



.....
.....



imię i nazwisko

klasa

Zadanie 1.

Półwysep Helski (Mierzeja Helska) ma około 35 km długości. Szerokość tego pasma lądowego wynosi od 200 m do 3 km. Półwysep powstał z kilku wysepek w wyniku działalności morza. Mierzeja ma kształt kosi. Narysuj ten najdłuższy polski półwysep.



Zadanie 2.

Na krańcu mierzei znajduje się Hel, miejscowość o długiej i bogatej historii, która sięga czasów wczesnego średniowiecza. Dowiedz się więcej o tej miejscowości i dokończ zdania.

W porcie można

.....

.....

W muzeum rybołówstwa można

.....

.....

W fokarium można

.....

.....

Na Dużej Plaży można

.....



Plaża w mieście Hel

Zadanie 3

Odszukaj mapę półwyspu i wypisz miejscowości, które znajdują się na Mierzei Helskiej.

.....

.....

.....



.....
imię i nazwisko

.....
klasa

Zadanie 1.

Bieszczady to rozległa i malownicza kraina, miejsce, gdzie można jeszcze znaleźć dziewiczą i dziką przyrodę. Czy wiesz, gdzie są Bieszczady? Pokoloruj to miejsce na mapie.



Zadanie 2.

W Bieszczadach można zobaczyć wiele interesujących miejsc. Jednym z nich jest zapora w Solinie. Przeczytaj krótki tekst i wyjaśnij pojęcia.

Dawna miejscowość Solina spoczywa na dnie zalewu, na głębokości około 60 metrów. Zalew powstał w wyniku wybudowania tamy, która jest największa w Polsce, mierzy 664 metry długości i 82 metry wysokości. Przez zaporę biegnie spacerowa promenada łącząca brzegi ogromnego akwenu. Zaporę można zwiedzać także w środku.



Solina – zapora

zapora –

.....

promenada –

.....

zalew –

.....

.....
imię i nazwisko

.....
klasa



Zadanie 1.

Będąc w Bieszczadach, warto odwiedzić Sanok – miasto nad rzeką San. Na turystów czeka tam piękna starówka i mały zamek. Czy wiesz, kim były postacie, które pojawiają się w tekście?

Zamek w swojej historii był najpierw budowlą drewnianą, do której zawitał między innymi Władysław Jagiełło. Na początku XVI wieku, Bona Sforza przebudowała go. Obecnie w wyremontowanym zamku mieści się Muzeum Historyczne, w którym można obejrzeć zbiór ikon karpackich i galerię obrazów Zdzisława Beksińskiego.



Zamek w Sanoku

Władysław Jagiełło –

Bona Sforza –

Zdzisław Beksiński –

Zadanie 2.

Marta była na wakacjach w Bieszczadach. Razem z rodzicami jechała kolejką wąskotorową Majdan–Przysłop. Przeczytaj tablicę informacyjną kolejki i odpowiedz na pytania.

BIESZCZADZKA KOLEJ LEŚNA informuje:

- kursy codziennie tylko w okresie wakacji
- kursy tylko w sobotę i niedzielę po sezonie (V – VI, IX).

CENNIK:

- bilet Majdan–Przysłop 11 zł, ulgowy 8 zł
- bilet w obie strony 18 zł, ulgowy 12 zł.

Czas przejazdu: 1 godzina 10 minut.



1. Jak nazywają się miesiące poza sezonem, w których kolejka jeździ tylko w weekendy?
2. Ile za bilety w jedną stronę zapłaci czteroosobowa rodzina: dwoje rodziców i dwoje dzieci?
3. Ile za bilety w obie strony zapłaci trzynastoosobowa klasa z nauczycielem?



imię i nazwisko

klasa

Zadanie 1.

W Polsce oprócz wspaniałych gór i błękitnego morza znajduje się też Pustynia Błędowska, która nazywana jest „polską Saharą”. Niestety większość obszaru pustyni jest już zarośnięta. Czy wiesz, gdzie jest polska pustynia na mapie? Pokoloruj to miejsce.



Zadanie 2.

Pustynia jest atrakcyjnym szlakiem turystycznym, który został oznaczony kolorem żółtym. Czy wiesz, co oznaczają poszczególne kolory nasz szlaków?



.....




.....



.....



.....



.....



Zadanie 3.

Pustynia Błędowska to jedyne miejsce w centralnej Europie, gdzie wstępują prawdziwe pustynne wydmy. Czy znasz jeszcze inne miejsce na mapie Polski, w którym można zobaczyć wydmy?

.....
.....
.....



.....
imię i nazwisko

.....
klasa

Zadanie 1.

Ojcowski Park Narodowy jest najmniejszym parkiem narodowym w Polsce. Czy wiesz, gdzie się znajduje? Pokoloruj to miejsce na mapie.



Zadanie 2.

W parku nad drogą do Ojcowa można zobaczyć Maczugę Herkulesa – niezwykłą 20-metrową skałę. Popatrz na fotografię i zastanów się, jak mogła powstać „maczuga”? Napisz, kim był Herkules.



.....
.....

Zadanie 3.

Najbardziej charakterystycznymi zwierzętami Ojcowskiego Parku Narodowego są nietoperze. Żyje ich tam 17 gatunków. Zamieszkują jaskinie. Najlepiej można je obserwować w czasie hibernacji. Czy wiesz, co to jest hibernacja?

Hibernacja to





.....
imię i nazwisko

.....
klasa

Zadanie 1.

*Czy wiesz, gdzie jest Bydgoszcz na mapie Polski?
Pokoloruj to miejsce na mapie.*



Zadanie 2.

Bydgoszcz jest największym miastem województwa kujawsko-pomorskiego. Na podstawie informacji z tabeli przygotuj krótką notatkę o tym mieście.

ludność	około 350 000	edukacja	Uniwersytet Kazimierza Wielkiego
kultura	Filharmonia Pomorska Opera Nova Teatr Polski	religia	katolicyzm protestantyzm prawosławie

.....

.....

.....

.....

.....

Zadanie 3.

Bydgoskie spichrze powstały pod koniec XVIII wieku i były przeznaczone do przechowywania i magazynowania produktów rolnych oraz spożywczych. Jak myślisz, co w nich dokładnie przechowywano?

.....

.....

.....



Biały spichlerz w Bydgoszczy



.....
imię i nazwisko

.....
klasa

Zadanie 1.

W Polsce można studiować na różnych uniwersytetach. Popatrz na fotografie. Czy wiesz, jakie uniwersytety przedstawiają?



.....
.....
.....

Zadanie 2.

Dokończ zdania.

Najstarszym uniwersytetem w Polsce jest

Najmłodszym uniwersytetem w Polsce jest

Zadanie 3.

Nazwy polskich uniwersytetów związane są wybitnymi polskimi postaciami. Zgadnij, o jakim uniwersytecie jest mowa.

Zastał Polskę drewnianą, a zostawił murowaną.

Napisał poemat trzynastozgłoskowcem.

Otrzymała dwie nagrody Nobla.

Wstrzymał słońce, ruszył ziemię.

Napisał cykl trenów.

Zadanie 4.

W Polsce jest 18 publicznych uniwersytetów. Czy znasz ich nazwy? Wymień przynajmniej 10.

.....
.....
.....
.....
.....



imię i nazwisko

klasa

Zadanie 1.

Czy wiesz, gdzie znajdują się Kaszuby na mapie Polski? Pokoloruj to miejsce na mapie.



Jeziro na Kaszubach



Zadanie 2.

Kraina tysiąca kaszubskich jezior ciągnie się od półbrzeża Bałtyku po ogromne Bory Tucholskie. Perłą krainy jest Pojezierze Kaszubskie, które zasłużyło sobie na miano Szwajcarii Kaszubskiej. Będąc na Kaszubach koniecznie trzeba odwiedzić Kaszubski Park Etnograficzny, który we Wdzydzach. Zastanów się i napisz, co to jest park etnograficzny.

.....
.....
.....
.....
.....



Naczynia kaszubskie

Zadanie 3.

Od 2005 roku język kaszubski, którym posługują się mieszkańcy między innymi Bytowa, Kościerzyny, Kartuz i Chojnic, został uznany za język regionalny. Dowiedz się więcej o tym języku i napisz krótką notatkę na jego temat.

.....
.....
.....
.....
.....


imię i nazwisko

klasa



Zadanie 1.

Czy wiesz, gdzie jest Olsztyn na mapie Polski? Pokoloruj to miejsce na mapie.



Olsztyn



Zadanie 2.

Warmia to kraina gotyckich zamków i błękitnych jezior. To prawdziwy raj dla miłośników przygód, potężnych warowni i wszelkich dyscyplin sportowych. Geograficznie zajmuje część Pojezierza Olsztyńskiego oraz Nizinę Warmińską. Jej stolicą jest Olsztyn, miasto, w którym zbiegają się wszystkie drogi Warmii. Przeczytaj tekst i uzupełnij go wyrazami z ramki.

znajduje się	kilkadziesiąt
wielkości	rocznicę
	cyfrowy

Olsztyńskie planetarium zostało otworzone w pięćsetną urodzin Mikołaja Kopernika – 19 lutego 1973 roku. Pod względem jest to drugie planetarium w Polsce. W budynku planetarium mieści się Federacja Miast Kopernikowskich. W obiekcie specjalistyczna biblioteka, w której zgromadzono kilka tysięcy książek oraz tytułów czasopism związanych z astronomią i astronautyką. Od 2012 roku w planetarium działa nowoczesny, system projekcyjny.



Planetarium w Olsztynie

Zadanie 3.

XIV-wieczny zamek kapituły warmińskiej w Olsztynie składa się z dwóch gotyckich skrzydeł, połączonych murem. Zachowały się w nim liczne pamiątki związane z regionem. Czy znasz inne polskie miasta, w których można spotkać gotyckie zamki, warownie, kościoły i katedry?

.....

.....

.....

.....

.....

Wikipedia

Wikipedia



imię i nazwisko

klasa

Zadanie 1.

Koszalin powstał w XIII wieku i szczęśliwie leżał na skrzyżowaniu szlaków handlowych, dzięki czemu szybko został regionalną potęgą. W XIV wieku zbudowano port na jeziorze Jamno, a miasto zostało członkiem Hanzy. Czy wiesz, czym była Hanza?

Hanza to

.....

.....

Zadanie 2.

Odszukaj informację na temat herbu Koszalina i odpowiedz na pytania.

1. Do czego nawiązuje obecny herb miasta?

.....

.....

2. Dlaczego symbolizują orzeł i gryf na herbie?

.....

.....

3. Dlaczego tło herbu jest niebieskie?

.....

.....



Zadanie 3.

Nad koszalińskim rynkiem góruje katedra Niepokalanego Poczęcia NMP z XIV wieku, która jest najcenniejszym zabytkiem miasta. Będąc tam warto obejrzyć także imponujący budynek poczty oraz stare mury miejskie. Koszalin to także stolica polskiego kabaretu. Co roku odbywa się tu Festiwal Kabaretu. Sprawdź, jak najlepiej dojechać do Koszalina i opisz to.



Poczta w Koszalinie

.....

.....

.....

.....

.....

.....

.....

.....

.....

.....

.....

.....



.....
imię i nazwisko

.....
klasa

Zadanie 1.

Największym uzdrowiskiem na Wybrzeżu jest Kołobrzeg. Dowiedz się, dlaczego jest on uzdrowiskiem i napisz o tym krótką notatkę.

.....
.....
.....
.....
.....
.....
.....
.....
.....
.....



Kołobrzeg.

Zadanie 2.

Dnia 18 marca 1945 roku, w zdobytym Kołobrzegu odbyła się uroczystość zaślubin Polski z morzem. W dno Bałtyku wbito polską flagę, a jeden z żołnierzy rzucił w morskie fale pierścień, dokonując symbolicznego aktu zaślubin. Dowiedz się więcej o tym wydarzeniu i odpowiedz na pytania.

1. Gdzie odbyły się pierwsze zaślubiny Polski z morzem po II wojnie światowej?

.....
2. Gdzie dokładnie odbyły się zaślubiny z morzem w Kołobrzegu?

.....
3. Dlaczego zaślubiny w Kołobrzegu były ważnym wydarzeniem?

.....

Zadanie 3.

Latem, kiedy jest ładna pogoda, na plaży w Kołobrzegu trudno znaleźć wolne miejsce. Jeżeli nie uda się znaleźć skrawka piasku niezajętego jeszcze przez miłośników plażowania, można pospacerować po molo lub parku zdrojowym. Dowiedz się, co jeszcze można zobaczyć w Kołobrzegu.

.....
.....
.....
.....
.....
.....
.....
.....
.....
.....





Zadanie 1.

Sudety to łańcuch górski na obszarze południowo-zachodniej Polski i północnych Czech, stosunkowo niewielki skrawek znajduje się w Niemczech. Najwyższy szczyt to Śnieżka, która mierzy 1603 m n.p.m. Pokoloruj miejsce na mapie, gdzie leżą Sudety.



Śnieżka zimą



Zadanie 3.

W Sudetach można spotkać salamandrę plamistą. Zdecyduj: tak czy nie!

1. Salamandra jest płazem. Tak Nie
2. Salamandra lubi suche środowisko. Tak Nie
3. Salamandra poluje po zmierzchu. Tak Nie
4. Salamandra w obronie wydziela toksyczną substancję. Tak Nie



Zadanie 2.

Jedną z największych atrakcji turystycznych w Sudetach jest zamek Książ w Wałbrzychu, który był wielokrotnie przebudowywany w swojej historii. Odszukaj informację o zamku i uzupełnij tekst.

Największy i „najprawdziwszy” zamek Śląska został wybudowany przez księcia
 w latach 1288 – 1292. Od 1509 roku do konfiskaty podczas
 należał do rodu von Hochbergów. W XIX i XX wieku w zamku gościło wiele sław, np.

.....,

W zamku jest stała wystawa
 W dawnych stajniach zamkowych na terenie parku mieści się





imię i nazwisko

klasa

Zadanie 1.

Wrocław to historyczna stolica Śląska oraz Dolnego Śląska. Jest położony nad Odrą, której odgałęzienia i dopływy tworzą liczne wyspy połączone mostami. Pokoloruj na mapie miejsce, gdzie leży Wrocław.



Zadanie 2.

W herbie Wrocławia znajduje się pięć symboli. Dowiedz się, co one oznaczają.

Lew czeski

Czarny orzeł

Litera W

Głowa świętego Jana Ewangelisty

Głowa świętego Jana Chrzciciela

Zadanie 3.

Sprawdź, co przedstawiają fotografie i podpisz je.

Ostrów Tumski Hala Stulecia
Katedra św. Jana Chrzciciela



.....
.....
.....



.....
.....
.....



.....
.....



imię i nazwisko

klasa

Zadanie 1.

Czy wiesz, gdzie znajduje się ziemia kłodzka, miejsce osiedlenia się Polaków, Niemców, Czechów oraz Flamandów? Pokoloruj to miejsce na mapie.



Panorama Kłodzka



Zadanie 2.

Na ziemi kłodzkiej czekają na turystów liczne atrakcje. Jedną z nich jest podziemna trasa turystyczna kopalni złota w Złotym Stoku. Uzupełnij tekst wyrazami z ramki.

wyprawę górnictwa podziemny złota czasów otworzono

W dawnej kopalni złota i arsenu Muzeum Górnictwa i Hutnictwa Złota.
W muzeum można poznać historię złota. Są tam stare mapy,
narzędzia górnicze, kolekcja tablic ostrzegawczych i informacyjnych z
PRL w sztolni transportowej „Gertruda”. Polecamy do sztolni „Czarnej”,
w której można zobaczyć 10-metrowy wodospad. Dodatkową atrakcją
jest przejażdżka kolejką kopalnianą, a także płukanie oraz bicie monet.

Zadanie 3.

Podziemna trasa turystyczna ciągnie się pod miastem – także pod starówką. Kiedyś lochy groziły zawaleniem. Trasa to ciąg wyremontowanych i połączonych ze sobą kupieckich piwnic średniowiecznych. W jakich innych polskich miastach turyści mogą zwiedzać podobne miejsca?

.....
.....
.....
.....
.....

Podziemna trasa turystyczna w Kłodzku





imię i nazwisko

klasa

Zadanie 1.

Frombork miasto Mikołaja Kopernika, w którym uczony spędził większość swojego życia. Czy znasz inne polskie miasta, które są związane postacią tego wybitnego astronoma?

.....
.....
.....
.....

Zadanie 2.

Przeczytaj tekst o Wzgórzu Katedralnym we Fromborku i zdecyduj, które zdanie jest prawdziwe (P), a które fałszywe (F).



Katedra we Fromborku



Widok na Zalew Wiślany

Na wzgórzu umożliwiono turystom zwiedzanie katedry, dzwonnicy, wieży Kopernika, fortyfikacji oraz pałacu biskupiego. W pałacu można zobaczyć wystawę ceramiki, naczyń laboratoryjnych, witraży oraz eksponaty archeologiczne. Na pierwszym piętrze zgromadzono rzeczy związane z Mikołajem Kopernikiem. Są tam dawne instrumenty astronomiczne, księgi oraz dzieła sztuki poświęcone temu uczonemu. Na drugim piętrze znajduje się ekspozycja majoliki – ozdobna ceramika. Jeżeli ktoś interesuje się historią medycyny, musi koniecznie zajrzeć do Muzeum Dawnej Medycyny, które mieści się w XVIII-wiecznym szpitalu. Zgromadzono w nim stare księgi medyczne, naczynia, oraz przyrządy lekarskie.

- | | | |
|---|----------|----------|
| 1. Na wzgórzu nie można zwiedzać wieży Kopernika. | P | F |
| 2. W pałacu biskupim zgromadzono tylko przedmioty związane z Kopernikiem. | P | F |
| 3. Na drugim piętrze pałacu nie ma przedmiotów astronomicznych. | P | F |
| 4. Dawny szpital to obecnie muzeum. | P | F |



imię i nazwisko

klasa

Zadanie 1.

Krzyżacy pojawili się w Polsce w XIII wieku. Czy wiesz, kto ich sprowadził, dlaczego i kiedy to było? Uzupełnij zdanie.

Krzyżaków sprowadził do Polski w
roku, ponieważ

Zadanie 2.

Zamek w Malborku jest największą gotycką twierdzą w Europie. Budowa twierdzy rozpoczęła się w 1274 roku. Efektem ciężkiej pracy wielu rąk są trzy zamki: średni, wysoki oraz niski. W Malborku mieszkali wielcy mistrzowie oraz rycerze. Czy wiesz, jak wyglądał rycerz krzyżacki? Opisz go.



.....
.....
.....
.....
.....
.....

Zamek krzyżacki w Malborku

Zadanie 3.

Państwo krzyżackie to nie tylko Malbork. Rycerze zakonu budowali zamki i warownie na terenie Pomorza oraz Warmii i Mazur. Jak myślisz, gdzie są te zamki? Podpisz fotografie miejscami z ramki.

Kwidzyń Golub
Toruń



Zadanie 4.

Na poniższej fotografii są ruiny zamku krzyżackiego w Szczytnie. Z kim i z jaką książką kojarzy Ci się to miasto? Kto jest autorem tej powieści?

.....
.....



Ruiny zamku krzyżackiego w Szczytnie.



imię i nazwisko

klasa

Zdanie 1.

Czy dobrze znasz polskie rzeki? Uporządkuj je od najdłuższej do najkrótszej.

San	Warta	Wisła	Narew	Odra	Bug
-----	-------	-------	-------	------	-----

1. 2. 3.
4. 4. 6.

Zadanie 2.

Wisła jest najdłuższą rzeką w Polsce – 1047 km. Swoje źródło ma w górach a ujście w Morzu Bałtyckim. Przez jakie miasta przepływa Wisła?



.....

Zadanie 3.

Odra przepływa nie tylko przez Wrocław. Nad tą piękną rzeką położone jest Opole – jeden z najstarszych słowiańskich grodów. Dowiedz się i napisz, co można zobaczyć w Opolu.



Zakole Odry w Opolu

Zadanie 4.

Narew jest największą rzeką w północno-wschodniej Polsce i ma unikatowy charakter. System rzeczny tej rzeki jest wielokorytowy, a to oznacza, że Narew nie płynie jednym korytem, ale wieloma korytami, które tworzą labirynt. Uroki Narwi doceniono i utworzono Narwiański Park Narodowy. Symbolem parku jest **błotniak stawowy**, dowiedz się więcej o tym ptaku i rozwiąż quiz.



- Błotniak zakłada gniazda na drzewach: TAK NIE
 Błotniak je tylko rośliny. TAK NIE
 Błotniak podczas lotu unosi skrzydła w kształcie liter V. TAK NIE
 Błotniak nie jest objęty ochroną. TAK NIE

Narew.

imię i nazwisko

klasa



Zadanie 1.

Czy wiesz, gdzie jest Gniezno? Zaznacz to miejsce na mapie Polski.



Herb Gniezna



Zadanie 2.

Przeczytaj tekst i zdecyduj, które zdanie jest prawdziwe (P), a które fałszywe (F).

Gniezno, które leży w Wielkopolsce, jest jednym z najstarszych miast w Polsce. W nim rozwijała się państwowość naszego kraju i tu zaczyna się historia Polski. Najprawdopodobniej w Gnieźnie w 966 roku Polska przyjęła chrzest. Tym, który zdecydował o tym, był pierwszy poświadczony w dokumentach władca Polski – Mieszko I. Jego syn, Bolesław Chrobry, w 1025 roku koronował się na pierwszego króla Polski. Inną ważną postacią dla Gniezna jest Święty Wojciech – polski męczennik – który został zabity przez pogan. Pochowano go w pierwszej świątyni stojącej na Wzgórzu Lecha.

1. Gniezno jest najstarszym miastem w Polsce.
2. Gniezno dało początek państwu polskiemu.
3. Mieszko I był legendarnym władcą Polski.
4. Bolesław Chrobry był pierwszym władcą Polski.
5. Święty Wojciech ochrzcił Polskę.

P	F
P	F
P	F
P	F
P	F

Zadanie 3.

W Gnieźnie można zwiedzać piękną katedrę. Dowiedz się więcej i napisz, jakie atrakcje na turystów czekają w tym mieście.

.....

.....

.....

.....

.....



Katedra w Gnieźnie



.....
imię i nazwisko

.....
klasa

Zadanie 1.

Czy wiesz, gdzie leży Poznań? Zaznacz to miejsce na mapie.



Herb Poznania



Zadanie 2.

*W herbie Poznania widnieją mury miejskie z basztami, postaci patronów biskupstwa – świętych Piotra i Pawła, klucze, tarcza z orłem – pamiątka po czasach, kiedy miasto było stolicą Polski, gwiazdy i półksiężycy. Jednak sam herb jest mniej znany niż
Dowiedz się, co jest nieoficjalnym symbolem miasta.*

Zadanie 3.

11 listopada w całej Polsce obchodzi się Święto Niepodległości. Mieszkańcy Poznania tego dnia świętują także imieniny ul. Św. Marcina. Od średniowiecza w tym dniu ulicami miasta przechodził kolorowy pochód ze Świętym Marcinem na czele. Tradycyjną potrawą tego święta są rogalie świętomarcińskie. Przygotowuje się je według starej, specjalnej receptury. Dowiedz się i napisz, czego potrzeba, żeby upiec taki rogal?



.....
.....
.....



Zadanie 4.

Spacerując po Poznaniu, co chwila można natknąć się na stare budowle i niezwykle miejsca. Na Starym Mieście warto zobaczyć Ratusz Miejski z XVI wieku. Napisz, co jeszcze warto zobaczyć w tym mieście.

.....
.....
.....
.....

Ratusz w Poznaniu



.....
imię i nazwisko

.....
klasa

Zadanie 1.

Czy wiesz, gdzie jest Słowiński Park Narodowy? Zaznacz to miejsce na mapie.



Wydmy w Słowińskim Parku Narodowym



Zadanie 2.

Przeczytaj tekst i uzupełnij go wyrazami z ramki.

ruchomymi dziwnego przesypuje się usypane najcenniejszych przymorskie

Słowiński Park Narodowy to jeziora, bagna, torfowiska, łąki, nadmorskie bory i lasy. Do najciekawszych i miejsc tego miejsca należy pas mierzei z wydmami, także Wydmy to piaszczyste wzniesienia z przez wiatr. Powstają, kiedy niezatrzymywany przez rośliny piasek ze szczytów i szczyty wydm przesuwają się w stronę, którą wieje wiatr. Na terenie Parku wiatry są bardzo silne, nic więc, że wydmy stale się poruszają.

Zadanie 3.

Wybierasz się na wakacje do Polski. Chciałbyś pojechać w okolice Łeby i Słowińskiego Parku Narodowego. Zaplanuj, co chciałbyś zobaczyć i zapisz to w punktach.

.....
.....
.....
.....
.....
.....
.....



Wydmy poruszają się z zachodu na wschód z prędkością od 2 do 9,5 metrów rocznie.

imię i nazwisko

klasa



Zadanie 1.

Czy wiesz, gdzie jest Przemyśl? Zaznacz to miejsce na mapie.



Panorama Przemyśla



Zadanie 2.

Przemyśl to miasto wielu kultur i ogromna twierdza z czasów I wojny światowej, słynie z niepowtarzalnej atmosfery. Najlepiej przyjechać do Przemyśla latem, ponieważ park zamkowy wygląda wtedy wyjątkowo. W herbie miasta znajduje się niedźwiedź. Dowiedz się, dlaczego, i napisz o tym krótką notatkę.



Pomnik niedźwiedzia w Przemyślu



Zadanie 3.

W Przemyślu są aż dwie archikatedry, czyli siedziby biskupów – jedna należy do chrześcijan obrządku katolickiego, a druga – dla chrześcijan obrządku grekokatolickiego. Czy wiesz, czym różni się katedra od archikatedry i bazyliki?



imię i nazwisko

klasa

Zadanie 1.

Czy wiesz, gdzie jest Opole? Zaznacz to miejsce na mapie.



Panorama Opola



Zadanie 2.

Opole położone jest w południowo-zachodniej Polsce i powstało prawdopodobnie w latach 950–980. Do Polski zostało przyłączone przez Mieszka I, który w 990 roku zajął Śląsk. Od tamtej pory dynastia Piastów na stałe wpisała się w historię miasta. Sprawdź, co kryje się pod tymi datami w historii miasta.

- 1241 –
-
- 1395 –
-
- 1526 –
-
- 1615 –
-
- 1827 –
-



Wieża Piastowska w Opolu

Zadanie 3.

Opole nazywane jest stolicą polskiej piosenki. W 1963 roku zorganizowano tu I Krajowy Festiwal Piosenki, który jest imprezą cykliczną. Dowiedz się, jakie nagrody są przyznawane na festiwalu.

.....
.....
.....



imię i nazwisko

klasa

Zadanie 1.

Czy wiesz, gdzie jest najstarsze polskie miasto – Kalisz? Zaznacz to miejsce na mapie.



Ratusz w Kaliszu



Zadanie 2.

W Kaliszu znajduje się rezerwat archeologiczny na terenie najstarszej osady z roku 860. Czy wiesz, co to jest rezerwat archeologiczny?

.....
.....

Zadanie 3.

Kalisz jest jednym z najstarszych miast w Polsce. Jakie inne tak stare miasta znasz? Napisz ich nazwy.

.....
.....

Zadanie 4.

Z Kaliszem związane są różne postacie ze świata kultury. Dowiedz się, kim były następujące osoby.

Adam Asnyk –

.....
.....

Maria Konopnicka –

.....
.....

Maria Dąbrowska –

.....
.....



Teatr w Kaliszu

imię i nazwisko

klasa



Zadanie 1.

Lublin to dawne miasto królewskie położone we wschodniej Polsce. Pokoloruj miejsce na mapie, w którym znajduje się Lublin.



Lublin



Zadanie 2.

Przeczytaj tekst o lubelskim zamku i zdecyduj, które zdanie jest prawdziwe (P), a które fałszywe (F).

Zamek w Lublinie został zbudowany za panowania Kazimierza Wielkiego w XIV wieku. Polscy królowie polubili to miejsce, ponieważ w XV wieku mieszkali tu synowie Kazimierza Jagiellończyka, którymi opiekował się kronikarz Jan Długosz. Niestety w XVII wieku, podczas potopu szwedzkiego, zamek został zniszczony. Ocalała tylko wieża i kaplica. W XX wieku odbudowano budowlę. Obecnie mieści się w niej Muzeum Lubelskie. Można w nim oglądać rycerskie zbroje, stare monety oraz obrazy. W holu muzeum stoi legendarny drewniany stół z wypalonym śladem czarnej łąpy.



Lubelski zamek

Zamek zbudował Kazimierz Jagiellończyk w XIV wieku.

F

P

Jan Długosz był synem królewskim.

F

P

Zamek został zniszczony podczas wojny.

F

P

W muzeum można oglądać rycerzy.

F

P

Zadanie 3.

Lublin to miasto uniwersyteckie. Czy wiesz, jak nazywają się uniwersytety znajdujące się w tym mieście?

.....

.....

.....

imię i nazwisko

klasa



Zadanie 1.

Toruń to miasto Mikołaja Kopernika. Herb Torunia należy do najstarszych w Polsce. Anioł czuwa nad miastem i ma nad nim władzę. Półotwarta brama oznacza, że miasto jest zamknięte dla wrogów, a otwarte dla gości. Pokoloruj miejsce na mapie, w którym znajduje się Toruń.



Herb Torunia

Zadanie 2.

Toruń jest słynny na całym świecie ze swoich pierników. Pierwsze informacje o nich pojawiły się około 1380 roku. W 1778 roku wypieczono jeden z największych pierników. Miał on około dwóch metrów długości. Toruńskie pierniki uwielbiał Fryderyk Chopin. W 1825 roku napisał list do przyjaciela, który w całości poświęcił tym ciastkom. Czy wiesz, co jest potrzebne, żeby upiec piernik? Dowiedz się i wypisz składniki.



Ratusz w Toruniu

Zadanie 3.

Planujesz z kolegą spędzić weekend w Toruniu. Przygotuj listę miejsc, które chciałbyś zobaczyć.